



केन्द्रीय रिजर्व पुलिस बल CENTRAL RESERVE POLICE FORCE

Test Date	27/02/2023
Test Time	04:00 PM - 05:30 PM
Subject	Head Constable Ministerial

Section : Hindi Language

Q.1 निम्न में से कौन-सा वाक्य पूर्ण वर्तमान का उदाहरण है।

- Ans
- A. मैंने जो पुस्तक लिखी वह राजेश ने पढ़ी है।
 - B. मैंने जो पुस्तक लिखी वह राजेश पढ़ता है।
 - C. मैंने जो पुस्तक लिखी वह राजेश ने पढ़ी होगी।
 - D. मैंने जो पुस्तक लिखी वह राजेश ने पढ़ी थी।

Question ID : 630680177105

Status : Answered

Chosen Option : D

Q.2 निम्न वाक्यों में कौन - सा रेखांकित पद शुद्ध है ?

- Ans
- A. पिताजी ने ठंडी साँश ली।
 - B. आपकी अबस्था क्या है ?
 - C. वह निरोगी हो गया।
 - D. वह कर्ज इकमुश्त चुकाया।

Question ID : 630680179300

Status : Answered

Chosen Option : D

Q.3 उपरोक्त वाक्य को शुद्ध कीजिए।

मैंने कहा कि मेरी बात मान लो किंतु वह सुनी - अनसुनी कर दिया।

- Ans
- A. मैंने कहा कि मेरी बात मान लो किंतु उसने सुनी - अनसुनी कर दी।
 - B. मैंने कहा कि उसकी बात मान लो किंतु उसने सुना - अनसुना किया
 - C. मैंने कहा कि मेरे बात मान लीजिए किंतु वह बिल्कुल सुना नहीं।
 - D. मैंने कहा कि मेरी बात मान ले किंतु उसने सुनी - अनसुनी कर दिया।

Question ID : 630680179310

Status : Answered

Chosen Option : A

Q.4 उचित उपसर्ग युक्त शब्द से वाक्य पूर्ण कीजिए।
उसकी _____ से सब दुःखी हैं।

- Ans A. अधोगति
 B. अधोमुख
 C. अधमरा
 D. अधःपतन

Question ID : 630680179320
Status : Answered
Chosen Option : D

Q.5 निम्न विकल्पों में से गलत विलोम शब्द छाँटिए।

- Ans A. धनी - निर्धनी
 B. तामसिक - सात्विक
 C. छली - निश्छल
 D. सनाथ - अनाथ

Question ID : 630680179292
Status : Answered
Chosen Option : A

Q.6 कौन - सा वाक्य विन्यास अशुद्ध है ?

- Ans A. तुम कक्षा से तुरंत बाहर जाओ।
 B. हम अपना गृहकार्य कर लिया।
 C. चलो, क्रिकेट मैच देखने चलें।
 D. गुरुजनों की आज्ञा मानो।

Question ID : 630680179330
Status : Answered
Chosen Option : B

Q.7 हर्रा लगे न फिटकरी, रंग चोख ही आवे। उपरोक्त लोकोक्ति का अर्थ बताइए।

- Ans A. खर्च भी न हो और काम भी बन जाए।
 B. दुष्ट व्यक्ति भय या त्रास से बात मानते हैं।
 C. हाथ का सामान्य आभूषणजिसमें दर्पण जड़ा होता है।
 D. शारीरिक यातना

Question ID : 630680179305
Status : Answered
Chosen Option : A

Q.8 विस्मयादिबोधक अव्यय किस वाक्य में नहीं है ?

- Ans A. मैंने कहा कि वह नहीं जाएगा।
 B. छिः ! ऐसा धिनौना काम।
 C. वाह - वाह ! क्या कर दिखाया।
 D. बाप रे ! इतना झूठ।

Question ID : 630680179355

Status : Answered

Chosen Option : A

Q.9 वाक्य के रिक्त स्थान के लिए उपयुक्त विकल्प चुनकर वाक्य पूर्ण करें।
हर भारतीय को अपनी संस्कृति पर _____ होना चाहिए।

- Ans A. गर्व
 B. अभिमान
 C. दर्प
 D. घमंड

Question ID : 630680177080

Status : Answered

Chosen Option : A

Q.10 वाक्य विन्यास की दृष्टि से शुद्ध वाक्य का चयन कीजिए।

- Ans A. काव्य प्रसाद का छायावादी युग का प्रतिनिधि काव्य है।
 B. छायावादी युग का प्रतिनिधि काव्य है प्रसाद का काव्य।
 C. प्रसाद का काव्य छायावादी युग का प्रतिनिधि काव्य है।
 D. प्रतिनिधि काव्य है प्रसाद का काव्य छायावादी युग का।

Question ID : 630680177088

Status : Answered

Chosen Option : C

Q.11 'दिनों का फेर होना' मुहावरे का अर्थ होगा।

- Ans A. धोखा देना
 B. बहुत जल्दी-जल्दी होना
 C. भाग्य का चक्कर
 D. दिन काटे न कटना

Question ID : 630680177062

Status : Answered

Chosen Option : C

Q.12 हेतुहेतुमद भविष्यत काल का वाक्य कौन – सा नहीं है ?

- Ans A. संभव है, आज मेरा मित्र मुंबई से लौटे।
 B. तुम आओगे तो मैं जाऊँगा।
 C. वह आए तो मैं जाऊँ।
 D. बिजली चमकेगी तो वर्षा होगी।

Question ID : 630680179350
Status : Answered
Chosen Option : A

Q.13 वर्तनी की दृष्टि से दिए गए वाक्य का कौन-सा शब्द अशुद्ध है।
रविवार को विद्यालय में अंत्यक्षरी प्रतियोगिता होगी।

- Ans A. रविवार
 B. प्रतियोगिता
 C. अंत्यक्षरी
 D. विद्यालय

Question ID : 630680177052
Status : Answered
Chosen Option : C

Q.14 'पवित्र' शब्द का पर्याय विकल्पों में से छाँटिए।

- Ans A. सलिल
 B. करवाल
 C. विमल
 D. उपल



INDIA

Question ID : 630680179285
Status : Answered
Chosen Option : C

Q.15 निम्न विकल्पों में कौन – सा वाक्य कारक के अनुसार सही है?

- Ans A. वह भूख में बेचैन है।
 B. हिमालय में गंगा निकलती है।
 C. हे भगवान! मेरी रक्षा कीजिए।
 D. माँ ने बच्चे से सुलाया।

Question ID : 630680179359
Status : Answered
Chosen Option : C

Q.16 वाक्य विन्यास की दृष्टि से शुद्ध वाक्य का चयन कीजिए।

- Ans A. राष्ट्रपति ने वीरचक्र प्रदान किया उसे रण में सेनापति के वीरता दिखाने के कारण।
 B. राष्ट्रपति ने उसे वीरचक्र प्रदान किया वीरता दिखाने के कारण रण में सेनापति के।
 C. राष्ट्रपति ने उसे वीरचक्र प्रदान किया कारण रण में सेनापति के वीरता दिखाने के।
 D. रण में सेनापति के वीरता दिखाने के कारण राष्ट्रपति ने उसे वीरचक्र प्रदान किया।

Question ID : 630680177075

Status : Answered

Chosen Option : D

Q.17 निम्न वाक्यों में अभ्यासबोधक संयुक्त क्रिया पहचानिए।

- Ans A. पानी बरसने लगा।
 B. वह पढ़ा करता है।
 C. घर जल गया।
 D. लड़का गिर पड़ा।

Question ID : 630680179362

Status : Answered

Chosen Option : D

Q.18 'संदेह' शब्द के विशेषण शब्द से वाक्य पूर्ण कीजिए।
मुझे आपका कार्य _____ प्रतीत होता है।

- Ans A. संदेही
 B. संदिग्ध
 C. सच्चाई
 D. संदेह



INDIA

Question ID : 630680179343

Status : Answered

Chosen Option : B

Q.19 निम्नलिखित वाक्यों में से शुद्ध वाक्य विन्यास छाँटिए।

- Ans A. एक गाय, दो घोड़े और एक बकरी मैदान में चर रहे हैं।
 B. एक गाय, दो घोड़े और एक बकरी मैदान में चर रही है।
 C. एक गाय, एक बकरी और दो घोड़ा चर रहा है।
 D. एक बकरी, एक गाय और दो घोड़े चर रही हैं।

Question ID : 630680179313

Status : Answered

Chosen Option : B

Q.20 वाक्य के रिक्त स्थान के लिए उपयुक्त विकल्प चुनकर वाक्य पूर्ण करें।
गणेशशंकर विद्यार्थी _____ व्यक्ति थे, उन्होंने हमें बहुत कुछ दिया।

- Ans A. कृपण
 B. कर्मठ
 C. संतुष्ट
 D. सुंदर

Question ID : 630680177103

Status : Answered

Chosen Option : B

Comprehension:

नीचे दिए गये गद्य को पढ़े और पुछे गये प्रश्नों के उत्तर दे:

शरीर के साथ श्रम आवश्यक है। यह इसलिए नहीं कि शरीर स्वस्थ रहे, बल्कि इसलिए कि शरीर जीवित रहे। शरीर को चालू रखने के लिए अपने परिश्रम से पदार्थों को उत्पन्न करना होगा। दूसरे ने हमारे लिए जो परिश्रम किया है, अब केवल उसके सहारे जीवित रहने का अधिकार नया समाज नहीं मानेगा। बाप - दादों के पुश्तैनी पैसों से जीवित रहने की बुरी सुस्त आदत हमने हजारों वर्षों से सीख ली है। उसने न केवल हमारे शरीर को निकम्मा बनाया है, बल्कि हमारे मन को बुरी लालच का गुलाम बना दिया है। किसी भले मानव के लिए यह लज्जा की बात होनी चाहिए कि वह उससे अपना पेट भरे जिसके लिए उसने स्वयं परिश्रम नहीं किया है। श्रम के आवश्यक नियम के अभाव में मजदूर - मालिक, गरीब - अमीर, सेठ - आसामी के चुभते हुए भेदों के शिकार हो गए हैं। इनसे अपना पिंड छुड़ाना मुश्किल पड़ रहा है। यदि हम सभी आदिम मानव की तरह आवश्यक कायिक श्रम से उपार्जित भाग को ही ईमानदारी से अपना मानते होते तो दूसरों का पसीना बहाकर अमीर बनने का मानसिक कोढ़ हमें न हुआ होता। अमीरी या धन का एक जगह संचय समाज का पील पाँव रोग है। धन जब एक जगह संचित होता है तो दूसरी जगह अभाव उत्पन्न करता है। श्रम की नींव पर बनने वाला जीवन भीतर से संतोष देता है। आर्थिक बंटवारे को न्यायपूर्ण बनाता है। ईर्ष्या, लोभ, बेईमानी, काहिली जैसी बुराइयों से लोगों को बचाता है।

SubQuestion No : 21

Q.21 दिए गए अनुच्छेद का सारांश बताइए।

- Ans A. जीवन को केवल स्वस्थ और जीवित बनाए रखने के लिए श्रम बहुत जरूरी है। दूसरों के परिश्रम पर जीने वाला व्यक्ति निकम्मा और लालची होता है। श्रम से ही जीवन संतोषप्रद होता है।
 B. हमें मजदूर - मालिक, अमीर - गरीब में अंतर की पहचान कर बाप - दादों के पुश्तैनी पैसों से विलासी जीवन व्यतीत करना चाहिए।
 C. शरीर को स्वस्थ रखने के लिए अधिकाधिक विश्वास की जरूरत है। खुद कम परिश्रम करके दूसरों के पैसों से जीवन बिताना उचित है।
 D. हम श्रम के आवश्यक नियम पालन कर अमीर बनने के लिए परिश्रम करें और उपार्जित धन को मनमाने ढंग से खर्च करें।

Question ID : 630680179375

Status : Answered

Chosen Option : A

Comprehension:

नीचे दिए गये गद्य को पढ़ें और पुछे गये प्रश्नों के उत्तर दें:

शरीर के साथ श्रम आवश्यक है। यह इसलिए नहीं कि शरीर स्वस्थ रहे, बल्कि इसलिए कि शरीर जीवित रहे। शरीर को चालू रखने के लिए अपने परिश्रम से पदार्थों को उत्पन्न करना होगा। दूसरे ने हमारे लिए जो परिश्रम किया है, अब केवल उसके सहारे जीवित रहने का अधिकार नया समाज नहीं मानेगा। बाप - दादों के पुश्तैनी पैसों से जीवित रहने की बुरी सुस्त आदत हमने हजारों वर्षों से सीख ली है। उसने न केवल हमारे शरीर को निकम्मा बनाया है, बल्कि हमारे मन को बुरी लालच का गुलाम बना दिया है। किसी भले मानव के लिए यह लज्जा की बात होनी चाहिए कि वह उससे अपना पेट भरे जिसके लिए उसने स्वयं परिश्रम नहीं किया है। श्रम के आवश्यक नियम के अभाव में मजदूर - मालिक, गरीब - अमीर, सेठ - आसामी के चुभते हुए भेदों के शिकार हो गए हैं। इनसे अपना पिंड छुड़ाना मुश्किल पड़ रहा है। यदि हम सभी आदिम मानव की तरह आवश्यक कायिक श्रम से उपार्जित भाग को ही ईमानदारी से अपना मानते होते तो दूसरों का पसीना बहाकर अमीर बनने का मानसिक कोढ़ हमें न हुआ होता। अमीरी या धन का एक जगह संचय समाज का पील पाँव रोग है। धन जब एक जगह संचित होता है तो दूसरी जगह अभाव उत्पन्न करता है। श्रम की नींव पर बनने वाला जीवन भीतर से संतोष देता है। आर्थिक बंटवारे को न्यायपूर्ण बनाता है। ईर्ष्या, लोभ, बेईमानी, काहिली जैसी बुराइयों से लोगों को बचाता है।

SubQuestion No : 22

Q.22 हमने सैकड़ों साल से क्या सीख लिया है ?

- Ans A. बाप - दादों के पुश्तैनी पैसों से जीवित रहने की बुरी सुस्त आदत हमने सीख ली है।
- B. अपने शरीर को निकम्मा बनाकर बुरी लालच का गुलाम बनना हमने सैकड़ों साल से सीख लिया है।
- C. हमने सीखा है, शरीर को स्वस्थ रखने के लिए स्वादिष्ट पदार्थों को खाना।
- D. हमने सैकड़ों साल से सीख लिया है, दूसरों के श्रम के पैसे लूटकर अमीर बनना।

Question ID : 630680179372

Status : Answered

Chosen Option : A

Comprehension:

नीचे दिए गये गद्य को पढ़ें और पुछे गये प्रश्नों के उत्तर दें:

शरीर के साथ श्रम आवश्यक है। यह इसलिए नहीं कि शरीर स्वस्थ रहे, बल्कि इसलिए कि शरीर जीवित रहे। शरीर को चालू रखने के लिए अपने परिश्रम से पदार्थों को उत्पन्न करना होगा। दूसरे ने हमारे लिए जो परिश्रम किया है, अब केवल उसके सहारे जीवित रहने का अधिकार नया समाज नहीं मानेगा। बाप - दादों के पुश्तैनी पैसों से जीवित रहने की बुरी सुस्त आदत हमने हजारों वर्षों से सीख ली है। उसने न केवल हमारे शरीर को निकम्मा बनाया है, बल्कि हमारे मन को बुरी लालच का गुलाम बना दिया है। किसी भले मानव के लिए यह लज्जा की बात होनी चाहिए कि वह उससे अपना पेट भरे जिसके लिए उसने स्वयं परिश्रम नहीं किया है। श्रम के आवश्यक नियम के अभाव में मजदूर - मालिक, गरीब - अमीर, सेठ - आसामी के चुभते हुए भेदों के शिकार हो गए हैं। इनसे अपना पिंड छुड़ाना मुश्किल पड़ रहा है। यदि हम सभी आदिम मानव की तरह आवश्यक कायिक श्रम से उपार्जित भाग को ही ईमानदारी से अपना मानते होते तो दूसरों का पसीना बहाकर अमीर बनने का मानसिक कोढ़ हमें न हुआ होता। अमीरी या धन का एक जगह संचय समाज का पील पाँव रोग है। धन जब एक जगह संचित होता है तो दूसरी जगह अभाव उत्पन्न करता है। श्रम की नींव पर बनने वाला जीवन भीतर से संतोष देता है। आर्थिक बंटवारे को न्यायपूर्ण बनाता है। ईर्ष्या, लोभ, बेईमानी, काहिली जैसी बुराइयों से लोगों को बचाता है।

SubQuestion No : 23

Q.23 प्रस्तुत अनुच्छेद के लिए उपयुक्त शीर्षक चयन कीजिए।

- Ans A. स्वस्थ जीवन के लिए विकृत चिंताधारा
- B. आत्मनिर्भरता
- C. श्रम की महत्ता
- D. श्रम नहीं, निर्भरशीलता आवश्यक है

Question ID : 630680179376

Status : Answered

Chosen Option : C

Comprehension:

नीचे दिए गये गद्य को पढ़ें और पढ़े गये प्रश्नों के उत्तर दें:

शरीर के साथ श्रम आवश्यक है। यह इसलिए नहीं कि शरीर स्वस्थ रहे, बल्कि इसलिए कि शरीर जीवित रहे। शरीर को चालू रखने के लिए अपने परिश्रम से पदार्थों को उत्पन्न करना होगा। दूसरे ने हमारे लिए जो परिश्रम किया है, अब केवल उसके सहारे जीवित रहने का अधिकार नया समाज नहीं मानेगा। बाप - दादों के पुश्तैनी पैसों से जीवित रहने की बुरी सुस्त आदत हमने हजारों वर्षों से सीख ली है। उसने न केवल हमारे शरीर को निकम्मा बनाया है, बल्कि हमारे मन को बुरी लालच का गुलाम बना दिया है। किसी भले मानव के लिए यह लज्जा की बात होनी चाहिए कि वह उससे अपना पेट भरे जिसके लिए उसने स्वयं परिश्रम नहीं किया है। श्रम के आवश्यक नियम के अभाव में मजदूर - मालिक, गरीब - अमीर, सेठ - आसामी के चुभते हुए भेदों के शिकार हो गए हैं। इनसे अपना पिंड छुड़ाना मुश्किल पड़ रहा है। यदि हम सभी आदिम मानव की तरह आवश्यक कायिक श्रम से उपार्जित भाग को ही ईमानदारी से अपना मानते होते तो दूसरों का पसीना बहाकर अमीर बनने का मानसिक कोढ़ हमें न हुआ होता। अमीरी या धन का एक जगह संचय समाज का पील पाँव रोग है। धन जब एक जगह संचित होता है तो दूसरी जगह अभाव उत्पन्न करता है। श्रम की नींव पर बनने वाला जीवन भीतर से संतोष देता है। आर्थिक बंटवारे को न्यायपूर्ण बनाता है। ईर्ष्या, लोभ, बेईमानी, काहिली जैसी बुराइयों से लोगों को बचाता है।

SubQuestion No : 24

Q.24 श्रम का जीवन कैसा होता है ?

- Ans A. श्रम के जीवन से व्यक्ति मजदूर - मालिक, गरीब - अमीर का अंतर समझ पाता है।
- B. श्रम का जीवन व्यक्ति को गुलाम बना देता है। वह हमेशा दूसरे पर निर्भर करता है।
- C. श्रम का जीवन संतोषप्रद और न्यायप्रद होता है और यह बुराइयों से लोगों की रक्षा करता है।
- D. श्रम से लोग बीमार ग्रस्त हो जाते हैं।

Question ID : 630680179373

Status : Answered

Chosen Option : C

Comprehension:

नीचे दिए गये गद्य को पढ़ें और पढ़े गये प्रश्नों के उत्तर दें:

शरीर के साथ श्रम आवश्यक है। यह इसलिए नहीं कि शरीर स्वस्थ रहे, बल्कि इसलिए कि शरीर जीवित रहे। शरीर को चालू रखने के लिए अपने परिश्रम से पदार्थों को उत्पन्न करना होगा। दूसरे ने हमारे लिए जो परिश्रम किया है, अब केवल उसके सहारे जीवित रहने का अधिकार नया समाज नहीं मानेगा। बाप - दादों के पुश्तैनी पैसों से जीवित रहने की बुरी सुस्त आदत हमने हजारों वर्षों से सीख ली है। उसने न केवल हमारे शरीर को निकम्मा बनाया है, बल्कि हमारे मन को बुरी लालच का गुलाम बना दिया है। किसी भले मानव के लिए यह लज्जा की बात होनी चाहिए कि वह उससे अपना पेट भरे जिसके लिए उसने स्वयं परिश्रम नहीं किया है। श्रम के आवश्यक नियम के अभाव में मजदूर - मालिक, गरीब - अमीर, सेठ - आसामी के चुभते हुए भेदों के शिकार हो गए हैं। इनसे अपना पिंड छुड़ाना मुश्किल पड़ रहा है। यदि हम सभी आदिम मानव की तरह आवश्यक कायिक श्रम से उपार्जित भाग को ही ईमानदारी से अपना मानते होते तो दूसरों का पसीना बहाकर अमीर बनने का मानसिक कोढ़ हमें न हुआ होता। अमीरी या धन का एक जगह संचय समाज का पील पाँव रोग है। धन जब एक जगह संचित होता है तो दूसरी जगह अभाव उत्पन्न करता है। श्रम की नींव पर बनने वाला जीवन भीतर से संतोष देता है। आर्थिक बंटवारे को न्यायपूर्ण बनाता है। ईर्ष्या, लोभ, बेईमानी, काहिली जैसी बुराइयों से लोगों को बचाता है।

SubQuestion No : 25

Q.25 उपरोक्त अनेक शब्दों के लिए कौन - सा शब्द इस अनुच्छेद में प्रयुक्त है ?
जो कई पीढ़ियों से चला आ रहा है:

- Ans A. काहिली
- B. नींव
- C. कायिक
- D. पुश्तैनी

Question ID : 630680179374

Status : Answered

Chosen Option : D

Q.1 Select the most appropriate synonym of the given word.
Surreptitious

- Ans A. Clandestine
 B. Overt
 C. Omnipresent
 D. Forthright

Question ID : 630680179447
Status : Not Answered
Chosen Option : --

Q.2 Choose the option that completes the proverb used in the following sentence.
Until next week, Tarun is staying in temporary accommodation and praying that lightning never _____ in the same place.

- Ans A. hits again
 B. lights twice
 C. strikes twice
 D. flashes two times

Question ID : 630680179455
Status : Not Answered
Chosen Option : --

Q.3 Select the option that can be used as a one-word substitute for the given group of words.
A government by the affluent

- Ans A. Oligarchy
 B. Plutocracy
 C. Bureaucracy
 D. Mobocracy

INDIA

Question ID : 630680179475
Status : Not Answered
Chosen Option : --

Q.4 Parts of the following sentence have been given as options. Select the option that contains an error.

Most studies conclude that children attain concrete operations around age 6 or 7 independent on formal schooling.

- Ans A. Most studies conclude that
 B. on formal schooling
 C. children attain concrete operations
 D. around age 6 or 7 independent

Question ID : 630680179506
Status : Not Answered
Chosen Option : --

Q.5 Select the most appropriate option to fill in the blanks.
Instinctually, when we take our first _____ as babies, we feel our way forward with trepidation, as though the floor may fall out _____ under us. As adults, newness and uncertainty produce a similar _____ as though we are standing at the edge of a cliff.

- Ans
- A. steps; from; sensation
 - B. baths; by; experience
 - C. naps; across; sense
 - D. laps; through; vibration

Question ID : 630680179497
Status : Not Answered
Chosen Option : --

Q.6 Select the correctly spelt word.

- Ans
- A. Ocasion
 - B. Maintainance
 - C. Suffocation
 - D. Definate

Question ID : 630680179459
Status : Not Answered
Chosen Option : --

Q.7 Select the option that expresses the given sentence in direct speech.
My friend asked me if I had been to that carnival before.

- Ans
- A. My friend asked, "Had you been to that carnival before?"
 - B. My friend asked, "Have you been to this carnival before?"
 - C. My friend asked, "Have I been to that carnival before?"
 - D. My friend asked, "Had you been to this carnival before?"

INDIA

Question ID : 630680179474
Status : Not Answered
Chosen Option : --

Q.8 Select the appropriate option to fill in the blanks.
Instead of enjoying their early steps on their life's journey, children involved in child labour _____ to _____ under conditions of slavery.

- Ans
- A. are forced; work
 - B. should be force; working
 - C. were forcing; working
 - D. would be forced; have worked

Question ID : 630680179521
Status : Not Answered
Chosen Option : --

Q.9 Select the most appropriate meaning of the underlined idiom.
Most private companies try to rein in spending during times of financial difficulty.

- Ans A. Have an expertise in
 B. Flush with huge numbers
 C. Provide for
 D. Limit or control something

Question ID : 630680179454
Status : Not Answered
Chosen Option : --

Q.10 Select the appropriate option to fill in the blank.
Nothing _____promising for Saudi Arabia when they lined up to face South American giants Argentina.

- Ans A. looks
 B. was looking
 C. looking
 D. was not looking

Question ID : 630680179518
Status : Not Answered
Chosen Option : --

Q.11 Parts of a sentence are given below in jumbled order. Arrange the parts in the correct order to form a meaningful sentence.

- A. miracles can happen
B. as a challenge to our ability and
C. when we accept tough jobs
D. waded into them with joy and enthusiasm,

- Ans A. BCAD
 B. ACDB
 C. CBDA
 D. DBCA

INDIA

Question ID : 630680179470
Status : Not Answered
Chosen Option : --

Q.12 Select the most appropriate adverb to fill in the blank.
This model walked _____of all.

- Ans A. the most gracious
 B. the most gracefully
 C. the more gracefully
 D. gracefully

Question ID : 630680179499
Status : Not Answered
Chosen Option : --

Q.13 Parts of the following sentence have been given as options. Select the option that contains a spelling error.
One must automatically adjust the execution strategy to accomodate changes in underlying database schemas, such as the addition of new indexes.

- Ans
- A. the execution strategy to accomodate changes
 - B. such as the addition of new indexes
 - C. in underlying database schemas
 - D. One must automatically adjust

Question ID : 630680179463
Status : Not Answered
Chosen Option : --

Q.14 Parts of a sentence are given below in jumbled order. Arrange the parts in the correct order to form a meaningful sentence.

- A. much like a huge animal crouching
- B. he saw the ocean swiftly
- C. just before it pounces on its prey
- D. withdraw from the shore

- Ans
- A. ADBC
 - B. CBDA
 - C. BDAC
 - D. DCBA

Question ID : 630680179469
Status : Not Answered
Chosen Option : --

Q.15 Select the most appropriate articles to fill in the blanks. In case no article is needed, select 'No article required'.

_____honest policeman does not make _____decent income.

- Ans
- A. a; an
 - B. the; the
 - C. the; no article required
 - D. an; a

Question ID : 630680179514
Status : Not Answered
Chosen Option : --

Q.16 Select the most appropriate option to fill in the blanks.
Every summer, or _____their jobs permitted, Kondapalli Seetharamaiah's daughter and his son-in-law-both of whom were doctors at Delhi's All India Institute of Medical Sciences-would visit Bastar in Madhya Pradesh and _____areas and treat poor tribals for free.

- Ans
- A. whenever; adjoining
 - B. whether; close
 - C. when; faraway
 - D. as; attached

Question ID : 630680179493
Status : Not Answered
Chosen Option : --

Q.17 Select the most appropriate ANTONYM of the underlined word.
Iraq continues to flaunt its hostility towards America and to support terror.

- Ans A. Friendliness
 B. Riches
 C. Enmity
 D. Relationship

Question ID : 630680177329
Status : Not Answered
Chosen Option : --

Q.18 Choose the right options that can fill the blanks (1) and (2) conveying the meaning in brackets.
The speech, through long, was _____ (1) (giving a clear, strong message), _____ (2) (making people feel excited and proud or ready to take action) and chilling.

- Ans A. Inflammatory, rowdy
 B. Eloquent, rousing
 C. Meandering, rowdy
 D. Meandering, sleepy

Question ID : 630680177371
Status : Not Answered
Chosen Option : --

Q.19 Select the most appropriate articles to fill in the blanks. In case no article is needed, select 'No article required'.

I have always wanted to be _____ teacher, but my parents wanted me to be _____ engineer.

- Ans A. no article required; no article required
 B. a; no article required
 C. an; an
 D. a; an

Question ID : 630680179513
Status : Not Answered
Chosen Option : --

Q.20 In the sentence given below, find the right option to replace the underlined part to make the sentence grammatically correct.
It is often said that Bengal Partition as compared with of the western border of India has not received much literary attention.

- Ans A. When in comparison to that on
 B. As compared to that in
 C. in comparison of
 D. in comparison with that on

Question ID : 630680179487
Status : Not Answered
Chosen Option : --

Comprehension:

Read the given passage and answer the questions that follow.

From his childhood, Gandhi, nicknamed Moniya, was a playful character.

Moniya was fond of playing out of doors, came home only when he felt hungry and disappeared as soon as he had had some food. Nothing could curb his irrepressible energy. His father's presence had some restraining effect, but the moment Kaba's back was turned, he would begin turning everything in the house upside down.

Although 'a difficult and self-willed child' insisting on 'having his way always', Moniya grew up to be a boy of 'a very peaceful disposition' and became 'very simple in his habits and tastes'. He was adept at hide-and-peek and moi-dandiyo. Sometimes he used to take part in cricket or some such games. There were some physical culture appliances at home. Occasionally, he exercised with these or went out for a drive in his father's horse-carriage. His favourite exercise and recreation were long walks. About a furlong from the house in which Moniya lived, there used to be a chowk, known as Shitala Chowk. On moonlit nights, parties of Hindu and Muslim boys assembled there from different quarters of the city and played games for an hour or so after dinner. Moniya also used to go there but he had a temperamental dislike for boisterous games. He did not participate in them but loved to officiate as umpire and saw to it that the rules of the game were strictly observed by those who engaged in them. If anyone played foul, he would politely but firmly put him out of the field.

SubQuestion No : 21

Q.21 Which of the following words can replace the word 'boisterous' in the passage?

- Ans A. Physical
 B. Rowdy
 C. Manly
 D. Complicated

Question ID : 630680179528

Status : Not Answered

Chosen Option : --

Comprehension:

Read the given passage and answer the questions that follow.

From his childhood, Gandhi, nicknamed Moniya, was a playful character.

Moniya was fond of playing out of doors, came home only when he felt hungry and disappeared as soon as he had had some food. Nothing could curb his irrepressible energy. His father's presence had some restraining effect, but the moment Kaba's back was turned, he would begin turning everything in the house upside down.

Although 'a difficult and self-willed child' insisting on 'having his way always', Moniya grew up to be a boy of 'a very peaceful disposition' and became 'very simple in his habits and tastes'. He was adept at hide-and-peek and moi-dandiyo. Sometimes he used to take part in cricket or some such games. There were some physical culture appliances at home. Occasionally, he exercised with these or went out for a drive in his father's horse-carriage. His favourite exercise and recreation were long walks. About a furlong from the house in which Moniya lived, there used to be a chowk, known as Shitala Chowk. On moonlit nights, parties of Hindu and Muslim boys assembled there from different quarters of the city and played games for an hour or so after dinner. Moniya also used to go there but he had a temperamental dislike for boisterous games. He did not participate in them but loved to officiate as umpire and saw to it that the rules of the game were strictly observed by those who engaged in them. If anyone played foul, he would politely but firmly put him out of the field.

SubQuestion No : 22

Q.22 What is the central theme of this passage?

- Ans A. Gandhi's social circle
 B. Gandhi's family
 C. Gandhi's childhood
 D. Gandhi's life

Question ID : 630680179524

Status : Not Answered

Chosen Option : --

Comprehension:

Read the given passage and answer the questions that follow.

From his childhood, Gandhi, nicknamed Moniya, was a playful character.

Moniya was fond of playing out of doors, came home only when he felt hungry and disappeared as soon as he had had some food. Nothing could curb his irrepressible energy. His father's presence had some restraining effect, but the moment Kaba's back was turned, he would begin turning everything in the house upside down.

Although 'a difficult and self-willed child' insisting on 'having his way always', Moniya grew up to be a boy of 'a very peaceful disposition' and became 'very simple in his habits and tastes'. He was adept at hide-and-peek and moi-dandiyo. Sometimes he used to take part in cricket or some such games. There were some physical culture appliances at home. Occasionally, he exercised with these or went out for a drive in his father's horse-carriage. His favourite exercise and recreation were long walks. About a furlong from the house in which Moniya lived, there used to be a chowk, known as Shitala Chowk. On moonlit nights, parties of Hindu and Muslim boys assembled there from different quarters of the city and played games for an hour or so after dinner. Moniya also used to go there but he had a temperamental dislike for boisterous games. He did not participate in them but loved to officiate as umpire and saw to it that the rules of the game were strictly observed by those who engaged in them. If anyone played foul, he would politely but firmly put him out of the field.

SubQuestion No : 23

Q.23 Which of the following CANNOT be inferred from the passage?

- Ans
- A. Gandhi was a stickler for rules.
 - B. Gandhi's father was a bit strict.
 - C. As Gandhi grew a bit older, there was a change in Gandhi's behaviour.
 - D. Gandhi avoided all physical activities.

Question ID : 630680179527

Status : Not Answered

Chosen Option : --

Comprehension:

Read the given passage and answer the questions that follow.

From his childhood, Gandhi, nicknamed Moniya, was a playful character.

Moniya was fond of playing out of doors, came home only when he felt hungry and disappeared as soon as he had had some food. Nothing could curb his irrepressible energy. His father's presence had some restraining effect, but the moment Kaba's back was turned, he would begin turning everything in the house upside down.

Although 'a difficult and self-willed child' insisting on 'having his way always', Moniya grew up to be a boy of 'a very peaceful disposition' and became 'very simple in his habits and tastes'. He was adept at hide-and-peek and moi-dandiyo. Sometimes he used to take part in cricket or some such games. There were some physical culture appliances at home. Occasionally, he exercised with these or went out for a drive in his father's horse-carriage. His favourite exercise and recreation were long walks. About a furlong from the house in which Moniya lived, there used to be a chowk, known as Shitala Chowk. On moonlit nights, parties of Hindu and Muslim boys assembled there from different quarters of the city and played games for an hour or so after dinner. Moniya also used to go there but he had a temperamental dislike for boisterous games. He did not participate in them but loved to officiate as umpire and saw to it that the rules of the game were strictly observed by those who engaged in them. If anyone played foul, he would politely but firmly put him out of the field.

SubQuestion No : 24

Q.24 Which of the following best summarises the passage?

- Ans
- A. It explains why Gandhi was a stickler for truth from childhood.
 - B. It describes how Gandhi transitioned from being a mischievous child to a calm young man.
 - C. It talks about Gandhi's childhood memories and his nickname.
 - D. It details Gandhi's anecdotes from his interesting childhood.

Question ID : 630680179526

Status : Not Answered

Chosen Option : --

Comprehension:

Read the given passage and answer the questions that follow.

From his childhood, Gandhi, nicknamed Moniya, was a playful character.

Moniya was fond of playing out of doors, came home only when he felt hungry and

disappeared as soon as he had had some food. Nothing could curb his irrepressible energy.

His father's presence had some restraining effect, but the moment Kaba's back was turned, he would begin turning everything in the house upside down.

Although 'a difficult and self-willed child' insisting on 'having his way always', Moniya grew up

to be a boy of 'a very peaceful disposition' and became 'very simple in his habits and tastes'.

He was adept at hide-and-seek and moi-dandiyo. Sometimes he used to take part in cricket or some such games. There were some physical culture appliances at home. Occasionally, he

exercised with these or went out for a drive in his father's horse-carriage. His favourite

exercise and recreation were long walks. About a furlong from the house in which Moniya

lived, there used to be a chowk, known as Shitala Chowk. On moonlit nights, parties of Hindu

and Muslim boys assembled there from different quarters of the city and played games for an

hour or so after dinner. Moniya also used to go there but he had a temperamental dislike for

boisterous games. He did not participate in them but loved to officiate as umpire and saw to it

that the rules of the game were strictly observed by those who engaged in them. If anyone

played foul, he would politely but firmly put him out of the field.

SubQuestion No : 25**Q.25 Why did Gandhi love to play the role of an umpire?****Ans** A. He loved to ensure that the no one flouted the rules. B. He wanted to remain friends with everyone. C. He hated boisterous games. D. He wanted to control the game.

Question ID : 630680179525

Status : Not Answered

Chosen Option : --

Section : General Aptitude

Q.1 सिंधु घाटी सभ्यता, जिसे हड़प्पा संस्कृति भी कहा जाता है, वह पहला स्थल है जहां अनूठी संस्कृति (unique culture) की खोज हुई थी। सभ्यता लगभग _____ प्रतीत होती है।**Ans** A. c. 2200-1400 BCE B. c. 2600-1900 BCE C. c. 2350-1700 BCE D. c. 2300-1500 BCE

Question ID : 630680179676

Status : Answered

Chosen Option : C

Q.2 निम्नलिखित में से किस विकल्प में पूंजी प्राप्तियों के उदाहरण हैं?**Ans** A. विदेशी सरकारों और अंतरराष्ट्रीय संगठनों से प्राप्त ऋण और लघु बचत जैसे डाकघर बचत खाते, राष्ट्रीय बचत प्रमाणपत्र आदि। B. विदेशी सरकारों और अंतरराष्ट्रीय संगठनों से प्राप्त ऋण और शेयरों में निवेश C. केंद्र सरकार द्वारा राज्य और केंद्र शासित प्रदेशों की सरकारों को दिए गए ऋण और अग्रिम तथा सरकार द्वारा जनता से लिए गए ऋण जिन्हें बाजार उधार कहा जाता है D. केंद्र सरकार द्वारा दिए गए ऋण की वसूली और केंद्र सरकार द्वारा सार्वजनिक क्षेत्र के उपक्रमों (PSUs) और अन्य पक्षों को दिए गए ऋण और अग्रिम

Question ID : 630680177478

Status : Answered

Chosen Option : D

Q.3 खिलाफत आंदोलन, मुहम्मद अली और शौकत अली के नेतृत्व में भारतीय मुसलमानों का एक आंदोलन था। यह किस वर्ष शुरू हुआ था?

- Ans A. 1919
 B. 1918
 C. 1916
 D. 1917

Question ID : 630680179669
Status : Answered
Chosen Option : A

Q.4 'उपाधियों का उन्मूलन' भारतीय संविधान के निम्नलिखित में से किस मौलिक अधिकार के अंतर्गत आता है?

- Ans A. संवैधानिक उपचारों का अधिकार
 B. समानता का अधिकार
 C. स्वतंत्रता का अधिकार
 D. शोषण के विरुद्ध अधिकार

Question ID : 630680179729
Status : Answered
Chosen Option : B

Q.5 निम्नलिखित में से कौन से पेपर हैं जो एक निश्चित अवधि में मौद्रिक रिटर्न की भविष्य की धारा का वादा करते हैं और सरकारों या फर्मों द्वारा जनता से पैसे उधार लेने के लिए जारी किए जाते हैं और बाजार में व्यापार योग्य होते हैं?

- Ans A. एक्जिम (Eximes)
 B. विलेख (Deeds)
 C. बॉन्ड (Bonds)
 D. एजीपी (AGPs)

INDIA

Question ID : 630680177482
Status : Answered
Chosen Option : C

Q.6 कथक, एक प्रमुख शास्त्रीय नृत्य शैली है, जिसमें पूरे शरीर के साथ-साथ पैरों की मनोहर ढंग से समन्वित गति (coordinated movement) शामिल होती है। यह भारत के किस भाग की नृत्य शैली है?

- Ans A. पूर्वी भारत
 B. उत्तरी भारत
 C. दक्षिणी भारत
 D. पश्चिमी भारत

Question ID : 630680179679
Status : Answered
Chosen Option : B

Q.7 29 दिसंबर 2022 को नागपुर में गोट पॉक्स (Goat Pox) वैक्सीन और "लंपी-प्रोवैक (Lumpi-ProVac)" वैक्सीन के निर्माण के लिए एक समझौता ज्ञापन (MoU) हस्ताक्षरित हुआ। लंपी-प्रोवैक का उपयोग लंपी स्किन रोग (Lumpy Skin Disease) से बचने के लिए पशुओं के रोगनिरोधी प्रतिरक्षीकरण के लिए किया जाता है, जो लगभग _____ के लिए अवैध संरक्षण (illicit protection) होता है।

- Ans
- A. 1 वर्ष
 - B. 2 वर्ष
 - C. 4 वर्ष
 - D. 3 वर्ष

Question ID : 630680179641
Status : Not Answered
Chosen Option : --

Q.8 श्यानता के CGS इकाई गुणांक का निम्नलिखित में से कौन-सा संबंध सही है?

- Ans
- A. $1 \text{ poise} = 1 \text{ g cm}^{-1} \text{ s}^{-1} = 10^{-1} \text{ kg m s}^{-1}$
 - B. $1 \text{ poise} = 1 \text{ g cm s}^{-1} = 10^{-1} \text{ kg m}^{-1} \text{ s}^{-1}$
 - C. $1 \text{ poise} = 1 \text{ g cm s}^{-1} = 10^{-1} \text{ kg m s}^{-1}$
 - D. $1 \text{ poise} = 1 \text{ g cm}^{-1} \text{ s}^{-1} = 10^{-1} \text{ kg m}^{-1} \text{ s}^{-1}$

Question ID : 630680179721
Status : Not Answered
Chosen Option : --

Q.9 जनवरी 2023 में, भाजपा के वरिष्ठ नेता केशरी नाथ त्रिपाठी, जिनका प्रयागराज में निधन हो गया, किस राज्य के राज्यपाल थे?

- Ans
- A. पश्चिम बंगाल
 - B. महाराष्ट्र
 - C. हरियाणा
 - D. गुजरात

INDIA

Question ID : 630680179732
Status : Answered
Chosen Option : D

Q.10 दिसंबर 2022 में, हरित ऊर्जा की दिशा में एक उत्कृष्ट कदम और पर्यावरणीय प्रबंधन के प्रति प्रतिबद्धता में, एचपीसीएल(HPCL) ने किस राज्य में गाय के गोबर से संपीडित बायोगैस परियोजना आरंभ की थी?

- Ans
- A. हरियाणा
 - B. हिमाचल प्रदेश
 - C. पंजाब
 - D. राजस्थान

Question ID : 630680179713
Status : Answered
Chosen Option : C

Q.11 _____ बिना किसी यांत्रिक सहायता के सभी अनुपातों में समान रूप से और पूर्णतः मिल जाती/जाता है/हैं।

- Ans A. गैसें
 B. द्रव
 C. प्लाज़्मा
 D. ठोस

Question ID : 630680179722
Status : Answered
Chosen Option : A

Q.12 भारत सरकार द्वारा शुरू किए गए "स्मार्ट प्रोग्राम (SMART Program)" का उद्देश्य क्या है?

- Ans A. कृषि में नई तकनीकों का उपयोग करना
 B. डिजिटल भुगतान को बढ़ावा देना
 C. डिजिटल बोर्ड के माध्यम से शिक्षा प्रदान करना
 D. आयुर्वेद में वैज्ञानिक अनुसंधान को बढ़ावा देना

Question ID : 630680179649
Status : Answered
Chosen Option : A

Q.13 निम्नलिखित में से कौन-सा हिंदुस्तानी संगीत का सबसे पुराना रूप है, जो वर्तमान समय में भी प्रचलित है?

- Ans A. तराना
 B. ख्याल
 C. दादरा
 D. ध्रुपद



Question ID : 630680179682
Status : Answered
Chosen Option : D

Q.14 'रॉलेट एक्ट (Rowlatt Act)' के विरुद्ध देशव्यापी अभियान का आह्वान किसने किया था?

- Ans A. मोतीलाल नेहरू
 B. महात्मा गांधी
 C. सुभाष चंद्र बोस
 D. जवाहरलाल नेहरू

Question ID : 630680179667
Status : Answered
Chosen Option : B

Q.15 भारत की जलवायु के संबंध में निम्नलिखित में से कौन सा कथन सही है?

- Ans A. अधिकांश पूर्वोत्तर भारत और उत्तर भारत का अधिकांश भाग आर्द्र उपोष्णकटिबंधीय जलवायु का अनुभव करता है।
- B. थार रेगिस्तान के पूर्व में, पंजाब और हरियाणा से लेकर काठियावाड़ तक का क्षेत्र, एक पर्वतीय, या अल्पाइन, जलवायु का अनुभव करता है।
- C. अधिकांश पश्चिमी राजस्थान एक उष्णकटिबंधीय और उपोष्णकटिबंधीय स्टेपी जलवायु का अनुभव करता है।
- D. भारत के उत्तरी छोर शुष्क जलवायु का अनुभव करते हैं।

Question ID : 630680177493

Status : Answered

Chosen Option : A

Q.16 कैलेंडर वर्ष 2022 में नियुक्त उच्च न्यायालय के न्यायाधीशों की संख्या के साथ राज्य के सही मिलान की पहचान करें।

- Ans A. बंबई उच्च न्यायालय - 16
- B. इलाहाबाद का उच्च न्यायालय - 17
- C. आंध्र प्रदेश उच्च न्यायालय - 14
- D. गुवाहाटी उच्च न्यायालय - 3

Question ID : 630680177524

Status : Not Answered

Chosen Option : --

Q.17 अगस्त 2022 में, ई-कॉमर्स में छोटे और मध्यम आकार के व्यवसायों की भागीदारी बढ़ाने के लिए ओपन नेटवर्क फॉर डिजिटल कॉमर्स (ONDC) और किस कंपनी के बीच एक समझौता ज्ञापन पर हस्ताक्षर किए गए?

- Ans A. SIDBI
- B. IDBI
- C. NABARD
- D. IFCI

INDIA

Question ID : 630680179699

Status : Answered

Chosen Option : A

Q.18 भारत सरकार के खान मंत्रालय की वार्षिक रिपोर्ट के अनुसार वर्ष 2020-21 में निम्नलिखित में से कौन-सा राज्य भारत में बॉक्साइट का अग्रणी उत्पादक है?

- Ans A. गुजरात
- B. मध्य प्रदेश
- C. ओडिशा
- D. झारखंड

Question ID : 630680179703

Status : Answered

Chosen Option : D

Q.19 पुरुषों की भाला फेंक स्पर्धा में 88.44 m का सर्वश्रेष्ठ ध्रु दर्ज करते हुए डायमंड लीग फाइनल्स 2022 जीतने वाले पहले भारतीय कौन बने हैं?

- Ans
- A. सुंदर सिंह गुर्जर
 - B. शिवपाल सिंह
 - C. सुमित अंतिल
 - D. नीरज चोपड़ा

Question ID : 630680179657
Status : Answered
Chosen Option : D

Q.20 एक राग में प्रयुक्त स्वरों की संख्या के अनुसार तीन प्रकार की जातियां होती हैं, राग जाति के उन प्रकारों में से, एक राग जिसमें आरोह और अवरोह में सात स्वर होते हैं, को _____ कहते हैं।

- Ans
- A. षाडव
 - B. संपूर्ण
 - C. ओडव
 - D. ओडव-संपूर्ण

Question ID : 630680179685
Status : Answered
Chosen Option : A

Q.21 निम्नलिखित में से किस मुगल शासक ने 1628-1658 तक शासन किया था?

- Ans
- A. शाह जहाँ
 - B. जहाँगीर
 - C. हुमायूँ
 - D. अकबर

INDIA

Question ID : 630680179662
Status : Answered
Chosen Option : A

Q.22 2022 में 7 प्रतिशत की वृद्धि के पूर्वानुमान के साथ, भारत की अर्थव्यवस्था आकार के संबंध में यूनाइटेड किंगडम से आगे निकल गई है, जिससे यह अंतर्राष्ट्रीय मुद्रा कोष के सितंबर 2022 के आंकड़ों के अनुसार _____ सबसे बड़ी अर्थव्यवस्था बन गई है।

- Ans
- A. पांचवीं
 - B. दूसरी
 - C. तीसरी
 - D. चौथी

Question ID : 630680179648
Status : Answered
Chosen Option : A

Q.23 संयुक्त राष्ट्र संघ के अनुसार, वर्ष 2035 तक भारत में शहरी क्षेत्र में रहने वाली जनसंख्या का प्रतिशत, मध्य वर्ष में कितना होगा?

- Ans A. 49.93%
- B. 43.2%
- C. 29.39%
- D. 53.93%

Question ID : 630680179709

Status : Not Answered

Chosen Option : --

Q.24 निदान (NIDAAN), सभी नशीले पदार्थों के अपराधियों के संबंधित डेटा के लिए वन-स्टॉप समाधान है और नशीले पदार्थों के मामलों की जांच-पड़ताल करते समय बिंदुओं को जोड़ने के लिए एक प्रभावी उपकरण के रूप में जांच एजेंसियों की मदद करेगा। NIDAAN का पूर्ण रूप क्या है?

- Ans A. National Integrated Database on Arrested Narco Offenders (नेशनल इंटीग्रेटेड डेटाबेस ऑन अरेस्टेड नार्को ऑफेंडर्स)
- B. Narcotic Integrated Database on Arrested National Offenders (नार्कोटिक इंटीग्रेटेड डेटाबेस ऑन अरेस्टेड नेशनल ऑफेंडर्स)
- C. National Integrated Database on Arrested National Offenders (नेशनल इंटीग्रेटेड डेटाबेस ऑन अरेस्टेड नेशनल ऑफेंडर्स)
- D. Narcotic Integrated Database on Arrested Narco Offenders (नार्कोटिक इंटीग्रेटेड डेटाबेस ऑन अरेस्टेड नार्को ऑफेंडर्स)

Question ID : 630680179654

Status : Answered

Chosen Option : C

Q.25 निम्नलिखित में से कौन-सा कथन पांच जगत्तों (kingdoms) के बारे में गलत है?

- Ans A. कोशिका भित्ति प्रोटिस्टा और कवक में विद्यमान रहती है।
- B. मोनेरा, प्राक्केन्द्रकी होता है।
- C. कवक, बहुकोशिकीय होता है।
- D. एनिमेलिया, स्वपोषी होता है।

Question ID : 630680179714

Status : Not Answered

Chosen Option : --

Section : General Intelligence

Q.1 चार अक्षर-समूह युग्म दिए गए हैं, जिनमें से तीन किसी न किसी तरीके से एक समान हैं, और एक असंगत है। उस असंगत अक्षर-समूह युग्म का चयन करें।

- Ans A. XANTHIN : FGLRVYL
- B. YAFFING : GLEDWYD
- C. LIBERTY : PRWCJGZ
- D. UNIFORM : MPLHWPk

Question ID : 630680177622

Status : Not Answered

Chosen Option : --

Q.2 दिए गए कथनों और निष्कर्षों को ध्यानपूर्वक पढ़ें। यह मानते हुए कि कथनों में दी गई जानकारी सत्य है, भले ही यह सामान्य रूप से ज्ञात तथ्यों से भिन्न प्रतीत होती हो, तय करें कि दिए गए निष्कर्षों में से कौन सा/से निष्कर्ष कथनों का तार्किक रूप से अनुसरण करता है/करते हैं।

कथन:

1. कुछ तोते, पक्षी हैं।
2. कुछ पक्षी, कबूतर हैं।
3. कुछ कबूतर, कौवे हैं।

निष्कर्ष:

1. कुछ कौवे, पक्षी हैं।
2. कुछ पक्षी, कौवे हैं।
3. कुछ तोते, कबूतर हैं।
4. कुछ कौवे, कबूतर हैं।

Ans

- A. केवल निष्कर्ष 3 अनुसरण करता है।
- B. केवल निष्कर्ष 4 अनुसरण करता है।
- C. केवल निष्कर्ष 2 अनुसरण करता है।
- D. केवल निष्कर्ष 1 अनुसरण करता है।

Question ID : 630680176405

Status : Answered

Chosen Option : B

Q.3 उस विकल्प का चयन करें, जो तीसरे पद से उसी प्रकार संबंधित है, जिस प्रकार दूसरा पद पहले पद से संबंधित है।

QIOK : TFRH :: YAWC : ?

Ans

- A. CXZZ
- B. BXZZ
- C. BXYZ
- D. CXZY

Question ID : 630680177618

Status : Answered

Chosen Option : B

Q.4 निम्नलिखित जानकारी का ध्यानपूर्वक अध्ययन करें और उसके नीचे दिए गए प्रश्न का उत्तर दें:

अंकों को प्रतीकों के रूप में कूटबद्ध किया गया है जैसा कि नीचे दर्शाया गया है:

अंक	5	9	8	1	0	2	6	4	3	7
कूट	β	£	%	#	&	€	¥	?	α	\$

शर्तें:

1. यदि पहला अंक विषम संख्या है और अंतिम अंक सम संख्या है, तो दोनों को @ के रूप में कूटबद्ध किया जाएगा।
2. यदि पहला और अंतिम अंक सम संख्या हैं, तो दोनों को पहले अंक के कूट द्वारा कूटबद्ध किया जाएगा।
3. यदि पहला और अंतिम अंक विषम संख्या हैं, तो पहले और अंतिम अंक के कूट को आपस में बदला जाएगा।
4. यदि पहला अंक सम संख्या है और अंतिम अंक विषम संख्या है, तो दोनों को अंतिम अंक के कूट द्वारा कूटबद्ध किया जाएगा।

'74568' का कूट क्या होगा?

Ans

A. \$?β\$%

B. %?¥β%

C. @¥?β@

D. @?β¥@

Question ID : 630680173405

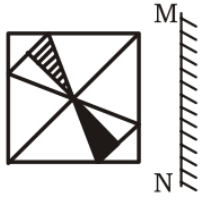
Status : Answered

Chosen Option : D



INDIA

Q.5 जब दर्पण को MN पर रखा जाता है तो दी गई आकृति का दर्पण में निर्मित सही प्रतिबिंब चयनित करें।



Ans

A.



B.



C.



D.



Question ID : 630680173442

Status : Answered

Chosen Option : C

Q.6 एक दीक्षांत समारोह लॉन में 100 विद्यार्थियों की पहली पंक्ति में, संजय, रवि के बाएं से 33वें स्थान पर है, जो दाएं छोर से 20वें स्थान पर है। बाएं छोर से संजय का स्थान क्या है?

Ans

A. 50 वीं

B. 48 वें

C. 47 वें

D. 49 वें

Question ID : 630680177574

Status : Answered

Chosen Option : B

Q.7 दिए गए विकल्पों में से उस अक्षर-समूह का चयन करें, जो निम्नलिखित श्रृंखला में प्रश्नवाचक चिह्न (?) को प्रतिस्थापित कर सकता है।

FAIL, CDLI, ZGOF, WJRC, ?

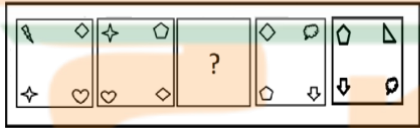
- Ans
- A. TMVZ
 - B. TNUZ
 - C. TMUY
 - D. TMUZ

Question ID : 630680177588

Status : Answered

Chosen Option : D

Q.8 दिए गए विकल्पों में से उस आकृति का चयन करें, जो निम्नलिखित श्रृंखला में प्रश्नवाचक चिन्ह (?) को प्रतिस्थापित कर सकती है।



Ans

- A.
- B.
- C.
- D.

Question ID : 630680177630

Status : Answered

Chosen Option : C

Q.9 उल्टे क्रम में लिखी गई अंग्रेजी वर्णमाला श्रृंखला का पहला और दूसरा भाग दिया गया है।

कौन सा अक्षर बाएं छोर से 22वें अक्षर के बाएं से 17वां होगा?

- Ans
- A. J
 - B. G
 - C. H
 - D. I

Question ID : 630680177593

Status : Answered

Chosen Option : D

Q.10 6 विद्यार्थी K, L, S, A, M और C एक सीधी पंक्ति में उत्तर की ओर अभिमुख होकर बैठे हैं। K और A बीच में बैठे हैं। L और C दोनों सिरों पर बैठे हैं। M, A के ठीक दाएँ पड़ोस में बैठा है। M के बाएँ से तीसरे स्थान पर कौन बैठा है?

- Ans
- A. K
 - B. A
 - C. S
 - D. L

Question ID : 630680176393

Status : Answered

Chosen Option : C

Q.11 किसी निश्चित कूट भाषा में, INTERVAL को SWUFJOBM के रूप में कूटबद्ध किया जाता है। FAREWELL को उसी भाषा में कैसे कूटबद्ध किया जाएगा?

- Ans
- A. XFSFGBNM
 - B. XFSFGBNN
 - C. XFSFGBMM
 - D. XFSFGBMN

Question ID : 630680177601

Status : Answered

Chosen Option : C

Q.12 यदि आभा, अंकित के बेटे के बेटे का भाई है, तो आभा का अंकित से क्या रिश्ता है?

- Ans
- A. बेटा
 - B. भाई
 - C. अंकल
 - D. पोता/नाती

Question ID : 630680176440

Status : Answered

Chosen Option : D

Q.13 A की आयु C से दो गुनी है, लेकिन E से दो गुनी कम है। D की आयु, C की आधी है, लेकिन K से दो गुनी है। किसकी आयु दूसरी न्यूनतम है?

- Ans
- A. C
 - B. D
 - C. K
 - D. A

Question ID : 630680176411
Status : Answered
Chosen Option : B

Q.14 निम्नलिखित समीकरण में प्रश्नवाचक चिह्न (?) के स्थान पर लगभग कितना मान आना चाहिए?

$$(32.79 + 27.21) \div 1.988 \times 3.991 - 99.999 + 89.97 = ?$$

- Ans
- A. 70
 - B. 330
 - C. 110
 - D. 270

Question ID : 630680173457
Status : Answered
Chosen Option : D

Q.15 अंग्रेजी वर्णमाला के पहले भाग को उल्टे क्रम में लिखा गया है और दूसरे भाग में कोई परिवर्तन नहीं किया गया है।

कौन सा अक्षर बाएं छोर से 17वें अक्षर के बाएं से 11वां होगा?

- Ans
- A. E
 - B. I
 - C. H
 - D. F

Question ID : 630680177591
Status : Answered
Chosen Option : C

Q.16 निम्नलिखित समीकरण में प्रश्नवाचक चिह्न (?) के स्थान पर लगभग कितना मान आना चाहिए?

$$125.044 - (10.11 \times 9.95) + (111\% \text{ of } 299.99) - (24.99 \times 19.99) + ? = 0$$

- Ans
- A. 142
 - B. 272
 - C. 433
 - D. 76

Question ID : 630680173456
Status : Answered
Chosen Option : C

Q.17 दिए गए विकल्पों में से उस संख्या का चयन करें, जो निम्नलिखित श्रृंखला में प्रश्नवाचक चिन्ह (?) को प्रतिस्थापित कर सकती है।

13, 15, 18, 23, 30, ?, 54

- Ans
- A. 37
 - B. 41
 - C. 39
 - D. 43

Question ID : 630680177650

Status : Answered

Chosen Option : B

Q.18 दिए गए विकल्पों में से उस संख्या का चयन करें, जो निम्नलिखित श्रृंखला में प्रश्नवाचक चिन्ह (?) को प्रतिस्थापित कर सकती है।

20, 60, 80, 140, 220, ?

- Ans
- A. 360
 - B. 390
 - C. 380
 - D. 370

Question ID : 630680177647

Status : Answered

Chosen Option : A

Q.19 निम्नलिखित जानकारी को ध्यानपूर्वक पढ़ें और नीचे दिए गए प्रश्न के उत्तर दें:

यदि 'A - B' का अर्थ है कि 'A, B की पुत्री है'।

यदि 'A × B' का अर्थ है कि 'A, B का पिता है'।

यदि 'A ÷ B' का अर्थ है कि 'A, B का पुत्र है'।

यदि 'A + B' का अर्थ है कि 'A, B की पत्नी है'।

व्यंजक 'L ÷ M × N - P - Q' में L का P से क्या संबंध है?

- Ans
- A. पुत्र
 - B. पिता
 - C. मां
 - D. भाई

Question ID : 630680173413

Status : Answered

Chosen Option : A

Q.20 चार अक्षर-समूह युग्म दिए गए हैं, जिनमें से तीन किसी न किसी तरीके से एक समान हैं, और एक असंगत है। उस असंगत अक्षर-समूह युग्म का चयन करें।

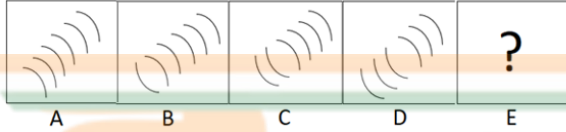
- Ans
- ✓ A. DOCTOR : FPEUQS
 - ✗ B. CREDIT : DTFFJV
 - ✗ C. CHOICE : DJPKDG
 - ✗ D. DEBATE : EGCCUG

Question ID : 630680177627

Status : Answered

Chosen Option : A

Q.21 दिए गए विकल्पों में से उस आकृति का चयन कीजिए जो निम्नलिखित श्रृंखला में प्रश्न चिह्न (?) को प्रतिस्थापित कर सकती है।



Ans

✗ A.



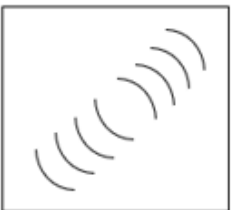
✗ B.



✓ C.



✗ D.



Question ID : 630680176458

Status : Answered

Chosen Option : C

Q.22 आठ जानवरों के खिलौने, शेर, गाय, हिरण, बिल्ली, कुत्ता, बाघ, बकरी और जेबरा को केंद्र की ओर अभिमुख होकर, निम्न प्रकार से एक गोल मेज पर समान दूरी पर रखा गया है।

- बकरी, कुत्ते के सामने बैठी है।
 - बिल्ली और गाय के बीच ठीक तीन खिलौने रखे गए हैं।
 - शेर, गाय और कुत्ते के बीच बैठा है।
 - शेर, बकरी के बाएं तीसरा है।
 - जेबरा, टाइगर के सामने बैठा है।
- शेर के सामने कौन बैठा है?

- Ans
- A. जेबरा
 - B. हिरण
 - C. बकरी
 - D. बिल्ली

Question ID : 630680177567

Status : Answered

Chosen Option : B

Q.23 निम्नलिखित शब्द के जल निर्मित प्रतिबिंब का चयन करें।

ANYONE

Ans

- A. ENOYNA
- B. ENOYNA
- C. ENOYNA
- D. ENOYNA

INDIA

Question ID : 630680177638

Status : Answered

Chosen Option : C

Q.24 मोहन दक्षिण की ओर अभिमुख है। वह समकोण पर दाएं मुड़ता है, फिर दोबारा समकोण पर दाएं मुड़ता है। तो वह अब किस दिशा की ओर अभिमुख है?

- Ans
- A. पश्चिम
 - B. उत्तर
 - C. दक्षिण
 - D. पूर्व

Question ID : 630680173410

Status : Answered

Chosen Option : A

Q.25 छह विषयों हिंदी, अंग्रेजी, गणित, भौतिकी, रसायन विज्ञान और कला को एक स्कूल में सोमवार से शुरू होने वाले सप्ताह के अलग-अलग दिनों में पढ़ाया जाना है, लेकिन जरूरी नहीं कि इसी क्रम में हो। रविवार छुट्टी है। भौतिकी और गणित, हिंदी और अंग्रेजी के बीच पढ़ाया जाता है। अंग्रेजी को किसी भी विषय के बाद नहीं पढ़ाया जा सकता है। शनिवार को रसायन विज्ञान नहीं पढ़ाया जाना है। यदि गणित बुधवार को पढ़ाई जानी है, तो निम्नलिखित में से कौन सा कथन असत्य है?

- Ans
- A. कला विषय, शनिवार को पढ़ाया जाना है।
 - B. रसायन विज्ञान, सोमवार को पढ़ाया जाना है।
 - C. हिन्दी, गुरुवार को पढ़ाया जाना है।
 - D. भौतिकी, मंगलवार को पढ़ाया जाना है।

Question ID : 630680177577

Status : Answered

Chosen Option : B

Section : Quantitative Aptitude

Q.1 एक विक्रेता, अपनी सामग्री पर क्रय मूल्य से 30% अधिक मूल्य अंकित करता है, और 25% की छूट देता है। लाभ/हानि प्रतिशत कितना होगा?

- Ans
- A. 3.25% लाभ
 - B. 3.25% हानि
 - C. 2.5% हानि
 - D. 2.5% लाभ

Question ID : 630680179580

Status : Answered

Chosen Option : C

Q.2 ₹25,600 की राशि, $9\frac{1}{4}\%$ वार्षिक साधारण ब्याज की दर से कितने समय में (वर्ष में) ₹36,848 हो जाएगी?

- Ans
- A. $5\frac{2}{3}$
 - B. $3\frac{1}{2}$
 - C. $4\frac{3}{4}$
 - D. $6\frac{1}{4}$

Question ID : 630680179590

Status : Answered

Chosen Option : C

Q.3 निम्नलिखित का मान ज्ञात कीजिए।

$$\frac{4\frac{1}{2} - 3\frac{1}{3}}{3\frac{2}{3} - 2\frac{1}{4}}$$

- Ans
- A. $\frac{11}{16}$
 - B. $\frac{8}{15}$
 - C. $\frac{2}{5}$
 - D. $\frac{14}{17}$

Question ID : 630680179553

Status : Answered

Chosen Option : D

Q.4 एक रेलगाड़ी, 5 p.m पर चेन्नई से चलती है, और 12 a.m पर कोयम्बटूर पहुंचती है। दूसरी रेलगाड़ी, 4 p.m. पर कोयम्बटूर से चलती है, और 1 a.m. पर चेन्नई पहुंचती है। यह मानते हुए कि रेलगाड़ियां समान मार्ग पर और नियत चाल से चलती हैं, तो वे कितने बजे एक-दूसरे को पार करेंगी?

- Ans
- A. 8:30 p.m.
 - B. 8:05 p.m.
 - C. 7:45 p.m.
 - D. 7:30 p.m.

Question ID : 630680179598

Status : Answered

Chosen Option : A

Q.5 2 : 3 के अनुपात में रंजक और जल से 60 L विलयन बनाया जाता है। रंजक और जल का अनुपात 3 : 5 करने के लिए, विलयन में जल मिलाया जाता है। विलयन का एक चौथाई भाग निकालना है, और अंतिम विलयन में रंजक और जल का अनुपात 2 : 3 करने के लिए रंजक मिलाना है। ज्ञात कीजिए कि कितने L रंजक मिलाना होगा।

- Ans
- A. 8
 - B. 2
 - C. 4
 - D. 6

Question ID : 630680179587
Status : Answered
Chosen Option : B

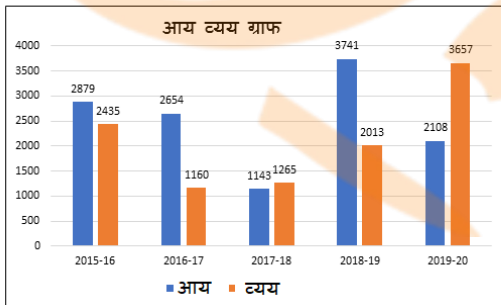
Q.6 तीन कारें X, Y और Z एक वृत्ताकार पथ पर एक ही समय पर और एक ही स्थान से समान दिशा में रेस आरंभ करती हैं। X एक चक्कर 168 सेकंड में, Y एक चक्कर 186 सेकंड में और Z एक चक्कर 196 सेकंड में पूरा करती है। कितने समय बाद वे फिर से प्रारंभिक स्थान पर मिलेंगी?

- Ans
- A. 616 मिनट और 54 सेकंड
 - B. 607 मिनट और 36 सेकंड
 - C. 612 मिनट और 48 सेकंड
 - D. 603 मिनट और 24 सेकंड

Question ID : 630680177958
Status : Answered
Chosen Option : B

Q.7 नीचे दिया गया बार चार्ट, फ्यूचर डेकोर कंपनी की आय और व्यय को (₹ हजार में) दर्शाता है।

यदि लाभ प्रतिशत की गणना $\frac{\text{आय}-\text{व्यय}}{\text{आय}} \times 100$ रूप में होती है, तो वर्ष 2018-19 और 2019-20 के लाभ प्रतिशत का योगफल ज्ञात कीजिए (एक दशमलव स्थान तक पूर्णांकित)।



- Ans
- A. 43.4%
 - B. 38.2%
 - C. -27.3%
 - D. -21.5%

Question ID : 630680179614
Status : Answered
Chosen Option : B

Q.8 चाय की कीमत में 20% की वृद्धि होती है। किसी परिवार को अपनी खपत में कितने प्रतिशत की कमी करनी चाहिए, ताकि अतिरिक्त व्यय में 2% से अधिक की वृद्धि न हो?

- Ans
- ✓ A. 15%
 - ✗ B. 10%
 - ✗ C. 18%
 - ✗ D. 12%

Question ID : 630680179570
Status : Answered
Chosen Option : A

Q.9 यदि किसी त्रिभुज का केन्द्रक (5, 4) है तथा इसके दो शीर्ष (4, 3) और (5, 4) हैं, तो तीसरा शीर्ष ज्ञात कीजिए।

- Ans
- ✗ A. (-6, -2)
 - ✓ B. (6, 5)
 - ✗ C. (-3, -5)
 - ✗ D. (3, 2)

Question ID : 630680179639
Status : Not Answered
Chosen Option : --

Q.10 प्रभाग A के 8 विद्यार्थियों की औसत ऊंचाई x है। यदि 156 cm की औसत ऊंचाई वाले 4 विद्यार्थी शामिल होते हैं, तो प्रभाग A की औसत ऊंचाई में $\frac{2}{3}$ cm की वृद्धि होती है। प्रभाग A में प्रथम 8 विद्यार्थियों की औसत ऊंचाई (cm) में ज्ञात कीजिए।

- Ans
- ✗ A. $153\frac{2}{3}$
 - ✓ B. 154
 - ✗ C. 153
 - ✗ D. $154\frac{1}{3}$

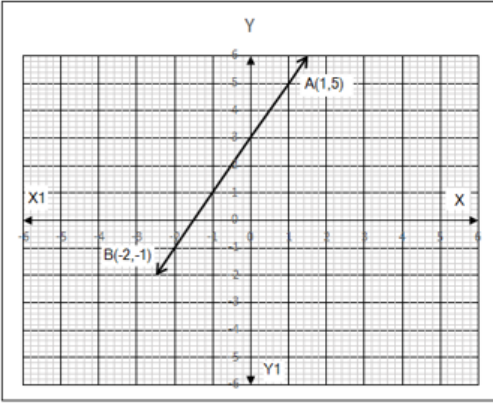
Question ID : 630680179559
Status : Answered
Chosen Option : C

Q.11 6 cm भुजा वाले समबाहु त्रिभुज का क्षेत्रफल (cm²) ज्ञात कीजिए। (एक दशमलव स्थान तक पूर्णांकित)

- Ans
- ✗ A. 16.3
 - ✗ B. 18.2
 - ✓ C. 15.6
 - ✗ D. 17.8

Question ID : 630680179627
Status : Answered
Chosen Option : C

Q.12 निम्नलिखित लेखाचित्र, निम्नलिखित में से किस समीकरण को पूर्ण करता है?



- Ans
- A. $x + 2y + 6 = 0$
 - B. $3x - 5y = 2$
 - C. $2x + 3y = 7$
 - D. $y = 2x + 3$

Question ID : 630680179621

Status : Not Answered

Chosen Option : --

Q.13 निम्नलिखित तालिका, किसी व्यापारी द्वारा जनवरी से मई तक 5 महीनों में वाशिंग मशीन की बिक्री दर्शाती है। पिछले महीने की तुलना में, बिक्री में प्रतिशत के रूप में किस महीने में दूसरी सबसे तेज वृद्धि या कमी हुई है?

महीना	बिक्री
जनवरी	780
फरवरी	1100
मार्च	920
अप्रैल	1054
मई	1265

- Ans
- A. अप्रैल
 - B. मार्च
 - C. मई
 - D. फरवरी

Question ID : 630680179611

Status : Answered

Chosen Option : D

Q.14 शिवानी और विजया अकेले-अकेले एक कार्य को क्रमशः 30 और 50 दिनों में पूरा कर सकती हैं। उन्होंने विजया से आरंभ करते हुए एकांतर रूप से कार्य करना आरंभ किया, तो संपूर्ण कार्य को पूरा करने में कितने दिनों की आवश्यकता होगी?

Ans

A. $37\frac{1}{5}$

B. $37\frac{3}{5}$

C. $36\frac{1}{3}$

D. $36\frac{3}{5}$

Question ID : 630680178008

Status : Answered

Chosen Option : B

Q.15 यदि $x = 5 + 2\sqrt{6}$ है, तो $\sqrt{x} - \frac{1}{\sqrt{x}}$ का मान ज्ञात कीजिए।


Ans

A. 10

B. $2\sqrt{2}$

C. 8

D. $2\sqrt{3}$



Question ID : 630680179618

Status : Answered

Chosen Option : B

Q.16 निम्न से कौन सा सत्य नहीं है?

Ans

A. $\sqrt{5} \geq 5$

B. $3^2 > 2^2$

C. $(\sqrt{4})^2 = 4$

D. $\sqrt{6} < 4$

Question ID : 630680177947

Status : Answered

Chosen Option : A

Q.17 किसी वृत्त की त्रिज्या 8.75 cm है। 72° कोण वाला एक त्रिज्यखंड (sector) काटा जाता है, त्रिज्यखंड का क्षेत्रफल (cm² में) ज्ञात कीजिए (एक दशमलव तक पूर्णांकित)।

- Ans
- A. 51.1
 - B. 49.3
 - C. 53.8
 - D. 48.1

Question ID : 630680179634

Status : Not Answered

Chosen Option : --

Q.18 एक डीलर ने एक म्यूजिक सिस्टम सेट पर 12% की छूट देकर उसे ₹18,920 में बेचा और 25% का लाभ कमाया। यदि कोई छूट नहीं दी जाती तो अर्जित लाभ का प्रतिशत (दो दशमलव स्थानों तक पूर्णांकित) क्या होता?

- Ans
- A. 44.05%
 - B. 48.25%
 - C. 42.05%
 - D. 52.05%

Question ID : 630680177977

Status : Answered

Chosen Option : B

Q.19 A किसी कार्य को 12 दिन में कर सकता है। B, A से 60% अधिक कुशल है। यदि वे B से शुरू करते हुए, बारी-बारी से काम करते हैं, तो वे एक साथ कार्य को कितने दिन में पूरा करेंगे?

- Ans
- A. 6
 - B. 10
 - C. 9
 - D. 8

Question ID : 630680179609

Status : Answered

Chosen Option : C

Q.20 वर्ष 2019 में, किसी गांव की जनसंख्या में 3.5% की वृद्धि हुई और वर्ष 2020 में 1% की कमी हुई। यदि वर्ष 2018 के अंत में जनसंख्या 1,32,400 थी, तो वर्ष 2021 के आरंभ में जनसंख्या ज्ञात कीजिए (निकटतम पूर्णांक तक पूर्णांकित)।

- Ans
- A. 1,35,664
 - B. 1,36,148
 - C. 1,34,720
 - D. 1,34,385

Question ID : 630680179567

Status : Not Answered

Chosen Option : --

Q.21 कमल ने अपनी कार द्वारा सड़क यात्रा आरंभ की और 75 kmph की नियत चाल से चला। अपनी कुल यात्रा का x% पूरा करने के बाद, उसकी कार में खराबी आ गई और इसलिए, उसे अपनी यात्रा को अपनी सामान्य चाल की आधी चाल से पूरा करना पड़ा। x के संदर्भ में कमल की पूरी यात्रा की औसत चाल (kmph में) क्या है?

Ans

A. $\frac{7500}{100 + x}$

B. $\frac{7500}{200 - x}$

C. $\frac{7500}{300 - x}$

D. $\frac{7500}{100 - x}$

Question ID : 630680177998

Status : Not Answered

Chosen Option : --

Q.22 यदि किसी निश्चित राशि पर 8% वार्षिक दर से 2 वर्षों में मिलने वाला चक्रवृद्धि ब्याज 166.4 रुपये है, तो मिलने वाला साधारण ब्याज (₹ में) ज्ञात कीजिये।


Ans

A. 160

B. 150

C. 140

D. 180



INDIA

Question ID : 630680177994

Status : Answered

Chosen Option : A

Q.23 दो त्रिभुजों में, उनके क्षेत्रफलों का अनुपात 5 : 4 है तथा उनकी ऊंचाइयों का अनुपात 3 : 2 है, उनके आधारों का अनुपात ज्ञात कीजिए।

Ans

A. 2 : 3

B. 5 : 2

C. 5 : 6

D. 3 : 4

Question ID : 630680179631

Status : Answered

Chosen Option : C

Q.24 एक बस, ठहराव (stoppages) के बिना 90 km/h की चाल से किसी दूरी को तय करती है, और वापस लौटते समय समान दूरी को ठहराव (stoppages) के साथ 75 km/h की चाल से तय करती है। प्रति घंटा औसत ठहराव समय ज्ञात कीजिए।

- Ans
- A. 12 min
 - B. 10 min
 - C. 8 min
 - D. 15 min

Question ID : 630680179563

Status : Answered

Chosen Option : B

Q.25 यदि $a : b = 2\frac{1}{2} : 1\frac{2}{3}$ और $b : c = 3 : 4$ है, तो $c : a$ ज्ञात कीजिए।

- Ans
- A. 7 : 5
 - B. 9 : 8
 - C. 5 : 7
 - D. 8 : 9

Question ID : 630680179584

Status : Not Answered

Chosen Option : --



INDIA